

**ШКОЛЬНЫЙ ЭТАП ВСЕРОССИЙСКОЙ ОЛИМПИАДЫ ШКОЛЬНИКОВ
ПО ИСТОРИИ
7 КЛАСС.
2021-2022 УЧЕБНЫЙ ГОД**

Время на выполнение заданий – 90 минут.

Общая сумма баллов – 100

Номер задания	1	2	3	4	5	6	7	8	9	10
Максимальный балл	12	12	8	12	10	9	10	10	9	8

Задание № 1. По какому принципу образованы ряды? (2 балла за каждое верное объяснение; максимальный балл – 12 баллов)

1.1. Какое из перечисленных сооружений построено в эпоху «Каролингского возрождения»?

- 1) Собор святого Петра в Риме
- 2) Палатинская капелла в Ахене
- 3) Собор святого Стефана в Вене
- 4) Собор Парижской Богоматери

1.2. Прочитайте отрывок из летописной повести и укажите имя князя, о котором рассказывает летописец.

«И, соединившись со всеми князьями русскими и со всеми силами, вскоре выступил против них из Москвы, чтобы защитить свою отчину. И пришел в Коломну, собрал воинов своих сто тысяч и сто, помимо князей и воевод местных. От начала мира не бывало такой силы русской – князей русских, как при этом князе. А всех сил и всех ратей числом в полтораста тысяч или двести. К тому же еще подоспели в тот ратный час издали великие князья Ольгердовичи поклониться и послужить: князь Андрей Полоцкий с псковичами и брат его – князь Дмитрий Брянский со всеми своими мужами».

- 1) Юрий Данилович
- 2) Иван Калита
- 3) Дмитрий Донской
- 4) Василий III

1.3. Как называется документ, отрывок из которого представлен ниже?

«Убьет муж мужа, то мстит брат за брата, или сын за отца, или сын брата или сын сестры; если не будет кто мстить, то 40 гривен за убитого. Если убитый – русин, или гридин, или купец, или ябедник, или мечник, или же изгой, или словенин, то 40 гривен уплатить за него...»

- 1) «Русская Правда»

- 2) «Домострой»
- 3) «Изборник» Святослава
- 4) Судебник 1497г.

1.4. Прочитайте отрывок из описания историком одного из городов Древней Руси и укажите данный город:

«Сей северорусский город имел развитую торговлю с Ганзой, в нём имелись специально построенные гостиные дворы для немецких и скандинавских купцов... Не раз город подвергался угрозе захвата, однако, даже полчища Батыя не решились осадить его...»

- 1) Вятка
- 2) Торжок
- 3) Новгород
- 4) Ярославль

1.5. В каком городе правил князь, о котором идёт речь в отрывке?

«Блаженный, приснопамятный и боголюбивый великий князь Михаил был сыном великого князя Ярослава, внуком же великого князя блаженного Ярослава Всеволодича, скончавшегося тяжкою смертью в Орде за христиан. Родился же он от блаженной, воистину преподобной матери, великой княгини Ксении; и воспитала его святая та и премудрая мать в страхе Господнем и научила святым книгам и всякой премудрости».

- 1) Москва
- 2) Нижний Новгород
- 3) Тверь
- 4) Суздаль

1.6. Прочитайте отрывок из труда арабского географа Ибн Русте. Определите, к какому хронологическому периоду относится данное описание.

«Булгар граничит с страной Буртас. Живут Булгаре на берегах реки, которая впадает в Хазарское море и прозывается Итиль, протекая между странами Хазар и Славян. Царь Булгар, Альмуш по имени, исповедует ислам».

- 1) III–IV вв.
- 2) V–VII вв.
- 3) IX–X вв.
- 4) XII–XIII вв.

1.1	1.2	1.3	1.4	1.5	1.6
2	3	1	3	3	3

Задание № 2. Выберите несколько верных ответов из предложенных. Ответы внесите в таблицу. (По 3 балла за полностью верный ответ, по 1 баллу за каждый верный элемент ответа. Максимальный балл- 12 баллов)

2.1. Какие из исторических деятелей были современниками Ивана Калиты?

- 1) Михаил Тверской
- 2) Юрий Долгорукий
- 3) Евпатий Коловрат
- 4) Андрей Боголюбский
- 5) Узбек
- 6) Юрий Данилович

2.2. Какие из представленных ниже категорий населения, перечисленных в «Русской правде», относятся к зависимым?

- 1) закуп
- 2) рядович
- 3) огнищанин
- 4) холоп
- 5) волхв
- 6) дружинник

2.3. Прочитайте отрывок и выберите из списка соборы, соответствующие описанию советского историка архитектуры.

«Уже издали над морем крыш городских домов виден собор, вознесший к небу свои башни. Первоначально трудно разобраться в сложной композиции открывающегося нам фасада собора, поражающего обилием деталей, искусно вытесанных из камня. Здесь и огромные стрельчатые порталы, похожие на ниши, скомпонованные так, что невольно хочется войти в собор, и огромное круглое окно-роза над ними, и прозрачные галереи, и высокие вытянутые вверх окна».

- 1) Собор Парижской Богоматери
- 2) Собор Святой Софии в Киеве

- 3) Собор Святой Софии в Константинополе
- 4) Реймский собор
- 5) Кёльнский собор
- 6) Собор святого Петра в Риме

2.4. Какие из представленных ниже городов были столицами русских княжеств в период политической раздробленности?

- 1) Можайск
- 2) Новгород-Северский
- 3) Изборск
- 4) Любеч
- 5) Муром
- 6) Искоростень

2.1	2.2	2.3	2.4
156	124	145	125

Задание 3. По какому историческому критерию образованы ряды (2 балла за каждый правильный ответ, максимальный балл – 8 балла).

3.1. Финифть, зернь, чернь, скань.

Ювелирные техники

3.2. 907 г., 911 г., 944 г., 971 г.

Договоры Руси с Византией

3.3. Святополк Окаянный, Борис Ростовский, Ярослав Мудрый, Глеб Муромский.

Участники усабицы после смерти Владимира Святославича (Владимира Святого).

3.4. Ногата, Гривна, Векша, Куна

Денежные единицы в Древней Руси

Задание 4. Дайте краткое обоснование ряда (что объединяет перечисленные элементы с исторической точки зрения) и укажите, какой из элементов является лишним по данному основанию (2 балл за обоснование ряда и 1 балл за лишний элемент, максимальный балл – 12 баллов).

4.1. 1223 г., 1237–1238 гг., 1240–1241 гг., 1245–1246 гг.

Даты походов монголов на Русь. Лишнее – 1245–1246 гг

4.2. Галич; Углич; Белоозеро; Нижний Новгород.

города, присоединённые к Московскому княжеству при Иване Калите.
Лишнее – Нижний Новгород

4.3. Апсида, закомара, купол, нервюры

Элементы древнерусского храма. Лишнее – нервюры

4.4. Дмитрий Донской, Дмитрий Боброк, Андрей Ольгердович, Батый

Участники Куликовской битвы. Лишнее – Батый

Задание 5. Установите соответствия. Запишите в таблицу выбранные цифры под соответствующими буквами. В перечне справа есть лишняя характеристика (по 1 балла за каждое соответствие, максимальный балл – 10 баллов)

5.1. Установите соответствия события и современника. Запишите в таблицу выбранные цифры под соответствующими буквами.

	Событие		Современник
А	Битва на Калке	1	Владимир Мономах
Б	Образование Древнерусского государства	2	Мстислав Удалой
В	Присоединение Твери	3	Игорь Старый
Г	Основание города Юрьева	4	Вещий Олег
Д	Разгром половцев	5	Иван Третий
		6	Ярослав Мудрый

Ответ:

А	Б	В	Г	Д
2	4	5	6	1

5.2. Установите соответствие между предметами и их определениями. Запишите в таблицу выбранные цифры под соответствующими буквами.

	Термины		Определения
А	гусли	1	кичка

Б	женский головной убор	2	мягкая, специальной выделки козья или овечья кожа яркого цвета
В	пенька	3	предмет, оберегающий владельца от бедствий
Г	амулет	4	волокно, сделанное из стеблей конопли
Д	пергамен	5	старинный струнный щипковый музыкальный инструмент
		6	сосуд из бересты, используемый для хранения различных продуктов

Ответ

А	Б	В	Г	Д
5	1	4	3	2

Задание 6. Перед вами перечень событий, произошедших в правление трёх российских князей. Запишите их имена, как правителей, которые используются в исторической и учебной литературе, в таблицу в хронологическом порядке их правления. Под именами правителей поставьте номера событий, произошедших в их правление. (по 1 баллу за каждый верный ответ, максимальный балл – 9 баллов)

- 1) Восстание в Твери
- 2) Невская битва
- 3) Языческая реформа
- 4) Переезд митрополита в Москву
- 5) Неврюева рать
- 6) Начало чеканки монеты на Руси

Ответ:

Имя правителя	Александр Невский	Иван Калита	Владимир Святой
События	25	14	36

Задание 7. Определите хронологический порядок событий. Запишите буквенные обозначения событий в хронологическом порядке в приведенную таблицу (по 5 баллов за правильную хронологию, максимальный балл – 10 баллов).

7.1.

- А) битва на реке Калке
- Б) поход Неврюевой рати на Русь

- В) крещение Руси
- Г) раскол христианской церкви на римско-католическую и православную
- д) восстание древлян

Ответ

1	2	3	4	5
Д	В	Г	А	Б

7.2.

- А) битва на реке Сити
- Б) первое летописное упоминание о Москве
- В) строительство Софийского Собора в Киеве
- Г) Любечский съезд
- Д) подписание «Великой Хартии вольностей»

Ответ

1	2	3	4	5
В	Г	Б	Д	А

Задание 8 . Перед Вами четыре пронумерованных изображения и карта. Выполните задания к ним (По 1 баллу за каждое верно названное имя и каждый правильный ответ на вопросы. Максимальный балл – 10)

1		2	



1. **Определите, кто изображен на каждом портрете. (4 балла)**
(По 1 баллу за каждое верно названное имя.)
 - 1 – Святослав Игоревич;
 - 2 – князь Олег Вещий;
 - 3 – Дмитрий Донской;
 - 4 – Рюрик.
2. **Укажите порядковый номер изображения человека, возглавившего поход, карта которого помещена ниже. (1 балл)**
Ответ: 1
3. **Какое значение имел данный поход? (1 балл)**
 Разгром Хазарского каганата. (Могут быть приведены иные имеющие основание утверждения)
4. **Куда был направлен последний поход полководца (2 балла)**
Ответ: В Дунайскую Болгарию (В Византию, на Дунай, на Балканы).

5. Чем закончился этот поход (2 балла)

Ответ: Святослав заключил договор с византийским императором Иоанном Цимисхием (1 балл) и погиб на обратной дороге на днепровских порогах от печенегов (1 балл)

Задание 9. Заполните пронумерованные пропуски в тексте. Вставляемые понятия (имена, даты, термины) занесите под соответствующими порядковыми номерами в таблицу (1 балл за каждый правильный ответ, максимальный балл – 9 баллов).

В 1 году началось вторжение монгольских сил на территорию Руси. Войска хана 2 (имя) покорили 3 (княжество), а затем вторглись на территорию Суздальской земли. Несмотря на то, что здесь 2 (имя) встретил самое упорное сопротивление за всё время военных походов на Руси, многие города были разорены, а владимирский князь 4 (имя) погиб в битве на реке 5 (название) весной 6 года. Татары повернули в сторону города 7 (название), однако до самого города они не дошли и, разорив Торжок, вернулись в степи. В 8 году монгольские войска двинулись на территории Южной Руси. В кратчайшие сроки был взят 9 (город), разорены Галицкая и Волынская земли. После этого татарские войска огнём и мечом прошли по ряду европейских стран и, как полагают исследователи, лишь известие о смерти хана Угедея заставило 2 (имя) прекратить поход и повернуть назад





Ответ:

<u>№</u>	Понятия, даты, термины, имена
1	1237
2	Батый
3	Рязанское
4	Юрий Всеволодович
5	Сить
6	1238
7	Новгород
8	1239
9	Киев

Задание 10.

Перед Вами изображения знаменитых памятников русской архитектуры до конца XV века. Заполните таблицу: во вторую колонку таблицы запишите название изображённого архитектурного памятника, в третью колонку таблицы запишите имя правителя (князя), при котором

соответствующий памятник был создан. (По 1 баллу за каждый верный элемент ответа. Всего за задание 8 баллов)

А		Б	
В		Г	

Ответ

Буквенное обозначение архитектурных памятников	Название	Имя правителя
А	Дмитриевский собор во Владимире	Всеволод Большое Гнездо
Б	Собор Святой Софии в Новгороде	Ярослав Мудрый
В	Золотые ворота	Андрей Боголюбский

Г	Успенский Московского Кремля	собор	Иван III
----------	---------------------------------	-------	----------

ИТОГО: 100 баллов